

放物線の共通接線のちょっとした小手技

札幌藻岩高等学校 中村文則

放物線を結ぶ赤い糸!!!

<先生>今日は、赤い紐によって結ばれた縁についての話をしよう。
 <まなぶ>先生、どうしたの。頭でも打った。
 <先生>真面目な話だよ。茶化さないように。まず、次の問題を考えてみよう。

ex1) 次の2つの放物線の両方に接する直線の方程式とその接点の座標を求めよ。
 $y = x^2 + 2x - 1 \dots\dots$, $y = x^2 - 4x + 8 \dots\dots$

<かず子> 共通接線の定番の問題ですね。接線は y 軸に平行でないから接線の方程式を $y = mx + n$ とおいて、判別式を使いましょう。私が解いちゃっていいかしら。まず、と連立させて、

$$x^2 + (2-m)x - 1 - n = 0 \quad \dots$$

判別式を D_1 とすると、

$$D_1 = (2-m)^2 - 4(-1-n) = m^2 - 4m + 4n + 8 = 0$$

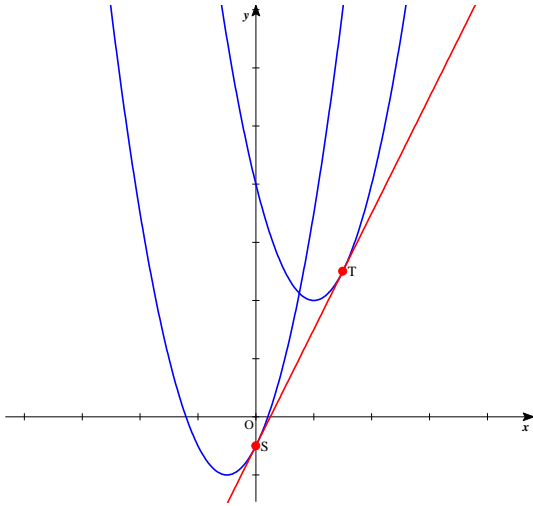
次に と連立させて、

$$x^2 - (4+m)x + 8 - n = 0 \quad \dots$$

判別式を D_2 とすると、

$$D_2 = (m+4)^2 - 4(8-n) = m^2 + 8m + 4n - 16 = 0$$

この2式を辺々引いて、
 $-12m + 24 = 0$ よって、 $m = 2$
 第1式に代入して、 $n = -1$
 以上より、 $y = 2x - 1$
 そして、接点は.....パス!、まなぶ、やって。
 <まなぶ>おいおい、急に振るなよ。よしおにパス!
 <よしお>しょうがないな。 $m = 2$ より、 の重解を求めて、



$$x = \frac{m-2}{2} = 0 \quad \text{これから接点は、}(0, -1)$$

同様に、 から接点は、(3, 2)。

でも、僕なら問題では接点も要求していることを考えると、微分を使った方がいいと思うな。

<先生>では、よしお、言った責任をとって解いてもらおう。
 <よしお>はい、 の接点の x 座標を $x = s$ とすると、

$$y' = 2x + 2 \text{ より、接線の方程式は、}$$

$$y = (2s+2)(x-s) + s^2 + 2s - 1$$

$$= (2s+2)x - s^2 - 1$$

同様に、 の接点の x 座標を $x = t$ とすると、

$$y = (2t-4)(x-t) + t^2 - 4t + 8$$

$$= (2t-4)x - t^2 + 8$$

2式は一致するから、

$$2s+2 = 2t-4, -s^2-1 = -t^2+8$$

$$s = 0, t = 3$$

これから、接線と接点が両方求められます。

<先生>そうだね。この2つが代表的な解法だね。

<まなぶ>先生、もう一つあるよ。二人の考えをドッキングさせるんだ。よしおが求めた の接線は、

$$y = (2s+2)x - s^2 - 1$$

これが と接すればいいから、連立させて、

$$x^2 - (2s+6)x + s^2 + 9 = 0$$

この判別式を D とすると、

$$\frac{D}{4} = (s+3)^2 - (s^2+9) = 6s = 0$$

これから、 $s=0$ が求まる。

<かず子>いつものことだけど、応用力というか適応力というか、まなぶのサバイバル機能には恐れ入るわ。
 <まなぶ>褒められていると解釈し、僕のサバイバルレーダーで予測すると、先生が言いたいのはこれだけではないですよ。
 <先生>まあね。実はこの問題は、赤い紐を使うと、1分でできてしまう。

<かず子>赤い紐？、接線も接点もですか？。凄い。どうやってやるんですか。

<先生>さて、取り出したる赤い紐。

<まなぶ>本当に赤い紐を持っているんですか。用意周到というか。

<先生>おほん、さて、この紐の両端を接点に置く。そして、両端が曲線上にあるように、上の紐を動かしていくと何か気がつくことはないだろうか。

<まなぶ>なんか面白そうだな。僕にやらせて。えーっと、この上を紐を滑らすと、も動いて...、あっ、分かったぞ。

<かず子>頂点だわ。の頂点の位置に紐の端がきたとき、も頂点に紐の端が来るわ。

<まなぶ>横取りするなよ。でも考えてみれば当たり前だよな。このグラフは同じ開きだから平行移動したら重なる。したがって紐の長さが固定されていたら、この曲線上の点の移動量は等しいということですよな。

<先生>そう。逆に頂点の位置から移動させてみればもっと分かりやすい。少しずつ曲線上をずらしていくと、接線になる。

<よしお>そうか、ということは先生、紐は平行移動しているわけだから、接線の傾きと2頂点を結ぶ線分の傾きは等しいということになりますね。

<先生>その通り。それぞれの放物線を標準形にすると、

$$y = (x+1)^2 - 2, \quad y = (x-2)^2 + 4$$

よって、2頂点 $(-1, -2)$ 、 $(2, 4)$ を結ぶ線分の傾きは、

$$m = \frac{4 - (-2)}{2 - (-1)} = 2$$

より、 $y' = 2x + 2$ よって、接点の x 座標は、 $2x + 2 = 2$ より、 $x = 0$

これから、接点は $(0, -1)$ より、接線の方程式は、 $y = 2x - 1$

同様に、より、 $y' = 2x - 4 = 2$ これから接点は、 $(3, 5)$ となる。

<かず子>ほんとだ。1分ぐらいでできちゃった。でも、先生、ひょっとしたら今日のネタはこれだけじゃないのでは。

<先生>かず子、その人を疑うような眼つきは、まなぶが入ってぞ。どうして、そう思うんだい。

<かず子>これだけのことにずぼらな先生がわざわざ紐を用意するわけないし、それと今回のテーマが共通接線なら、もう一つ別の共通接線が考えられると思うのだけれど。

<先生>紐を用意してきたことの意図は余計なお世話だけど、もう一つの共通接線に気がついたのは鋭い。次の問題を見てごらん。

ex2) 次の2つの放物線の共通接線の方程式を求めよ。

$$y = x^2 - 2x + 3 \quad \dots, \quad y = -x^2 + 6x - 13 \quad \dots$$

<まなぶ>そうか、放物線のグラフの開きが上に凸と下に凸の場合か。なるほど、この場合の共通接線もありえるか。

<よしお>これは2つの接線が考えられますね。今日のテーマから考えると、これも赤い紐を使うとできるということになりますね。

<先生>よしおも先読みするようになったか。まなぶウィルスが蔓延したかな。

まあ、ウィルスに感染した諸君ならもう分かっていると思うけど、当然まず2頂点を結ぶ。そして、共通接線になるように移動量と同じにして曲線上をずらしていくんだけど、下に凸の放物線上の点を左方向に動かすと、上に凸の方は右方向になるね。だから紐を伸ばしながら動かすことになる。実演しよう。こうだ。この動きをみて何か感じることはないかな。

<かず子>すだれをねじった形に紐の軌跡が出来上がるわ。

<まなぶ>ということは、そのねじった箇所は定点ということにならないかな。

<よしお>それは紐の midpoint ですよな。

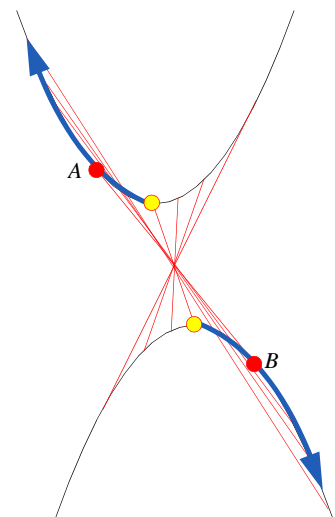
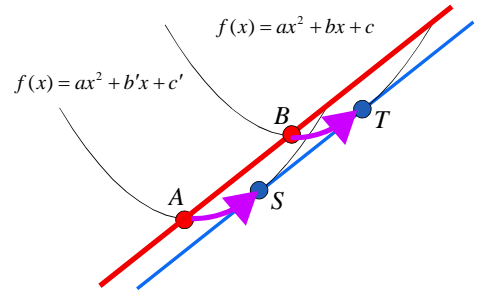
<先生>関係プレイというより二人がまなぶのクローンになっているようでちょっと怖いが、その通りだ。これも考えてみれば当たり前だね。2つの放物線を重ねるには2頂点の midpoint に関して対称移動すればいいわけだから。

<まなぶ>そうか。ということは、接線もこの midpoint を通ることだ。

<かず子>だから、点がきまっているから後は傾きを求めればいいってことね。

<よしお>あるいは微分で接点を求める。

<先生>まあ、そういうことだ。じゃ、誰か求めてごらん。



<かず子>まず の頂点は、 $y = (x-1)^2 + 2$ より、 $A(1,2)$.

同様に は、 $y = -(x-3)^2 - 4$ より、 $B(3,-4)$

したがって中点は $P(2,-1)$ だわ .

<よしお>あとは、判別式か微分を使えばいいですね . 微分でやります .

の接点の x 座標を $x=t$ とおくと、接線の方程式は、
 $y = (2t-2)(x-t) + t^2 - 2t + 3 = (2t-2)x - t^2 + 3 \dots (*)$

これに点 P を代入して、 $-1 = 2(2t-2) - t^2 + 3$

$t^2 - 4t = 0$ より、 $t = 0, 4$

したがって、(*)式に代入して、 $y = -2x + 3, y = 6x - 13$

となります .

<まなぶ>うーん、なんとなくできたけど、しっくりこないなあ .

<かず子>何がなの . 簡単に求まってるじゃない .

<まなぶ>確かに普通にやるより簡単だけど、最初にやったグラフの開きと同じ場合の1分の解答に比べると随分手間がかかっている気がしないか .

<よしお>そういえば、そうだな .

<先生>さすが、元ウィルスまなぶ . するどい .

<まなぶ>ひでえな . 先生、まだ秘密を隠し持っているでしょ . 早く吐きなよ .

<先生>それでは、さて、この赤い紐の両端を y 軸に平行になるように放物線を移動させる . このときの紐の長さで何か気づくことは .

<生徒達>.....

<先生>では、紐の下端が中点 P になるように紐を上へ平行移動させると...

<かず子>あっ、先生、わたし知ってる . 下に凸の放物線の2接点を結び、赤い紐の上端はその直線上にあるんですよ .

<まなぶ>そんな性質あるの .

<先生>放物線の大事な性質のひとつだね .

直感的な証明は赤い紐と放物線が交わった点 Q における接線を求めて、接線の値だけ放物線の値を引いてみる .

<まなぶ>先生の得意な y 軸に平行に曲線をスライスして x 軸上に整形しなおすって方法ですね .

<先生>そう、スケーリングといったね . そうするとこの放物線は点 Q を頂点とする放物線の基本形に整形できる . この図から放物線に関するいろいろな性質が見えてくる . 例えば2接点の x 座標の平均は、点 P の x 座標に等しいことから、整形した線分 ST は x 軸に平行となる . これはもとの放物線において点 Q を通る接線と、直線 ST は平行であることを意味する .

<よしお>線分 ST と放物線で囲まれる図形の面積 S_1 と、2接線と放物線で囲まれる図形の面積 S_2 の面積比は、

$$S_1 : S_2 = 2 : 1$$

になるっていうのもありましたよね .

<先生>そしてこれらの性質を使うと ex の問題も簡単に解けてしまうんだ .

その前に少しももとの問題を整理してみよう .

まず、2つの放物線の頂点を結び線分の中点に関して2つの放物線は対称であることが分かった . その対称点 $P(2,-1)$ を通る接線を求めると考えれば ex2 の問題は、

ex3) 点 $P(2,-1)$ から放物線 $y = x^2 - 2x + 3$ に引いた接線を求めよ .

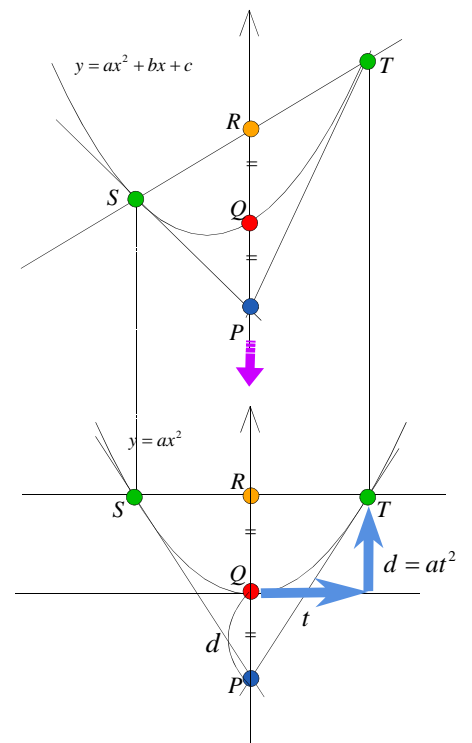
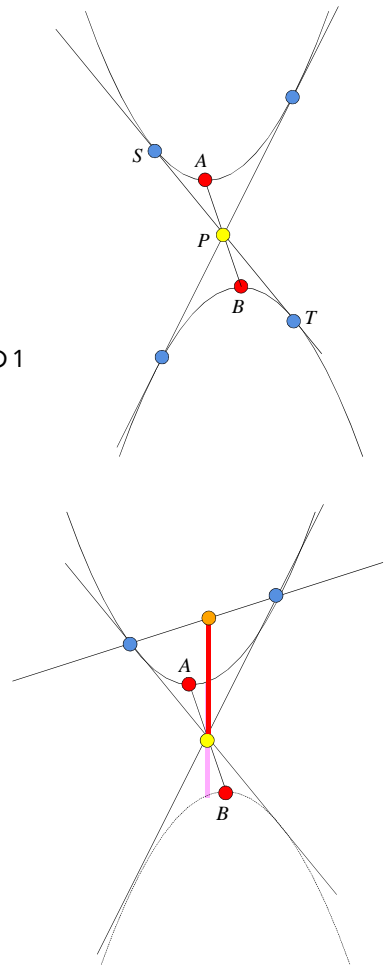
とみなすことができるだろ .

<かず子>なんだ . 共通接線の問題と、曲線外から引いた接線の問題は同じことを要求していたんですね . でも、この場合の求め方も、通常は、接点を適当において接線の方程式を作り、曲線外の点を代入するって方法だったと思うけど .

<まなぶ>だから、それが簡単にできてしまうということを先生はいいたいんですよ .

<先生>そういうことだ . そのためにさきほどかず子がいった性質を図で説明しておこう .

右図において、点 Q における接線を土台に y 軸方向にスケーリングしてできた放物線を $y = ax^2$ とする . この放物線を見ると、 $PQ = QR$ であることはすぐに分かる .



<まなぶ>えっ、どうして。

<先 生>点 $T(t, at^2)$ における接線を求めてごらん。

<よしお> $y' = 2ax$ ですから、接線の方程式は、

$$y = 2at(x-t) + at^2 = 2atx - at^2$$

となります。

<先 生>求める2接線は、放物線 $y = ax^2$ の y 軸上の点 $P(0, -at^2)$ から引いた接線に対応している。ここで y 切片 at^2 は、 $y = ax^2$ の原点からの x の増分 t に対する y の増分に等しいことから $PQ = QR$ であることが分かる。

<まなぶ>なるほどね。それを聞いて先生が言いたいことがなんとなく読めてきたぞ。先生は、 y の増分が分かれば、接点の x 座標がこの性質を使うと求められるっていいじゃないですか。

<先 生>さすが元ウィルス...

<まなぶ>分かったから話を進めてよ。

<先 生>それでは、放物線を $f(x) = ax^2 + bx + c$ ($a > 0$) とし、点 $P(p, q)$ から引いた接線を求めてみよう。まず、点 P を通る y 軸に平行な直線 $x = p$ と放物線および2接線 ST を結び線分との交点をそれぞれ Q, R とする。

$Q(p, f(p))$ より線分 PQ の長さ d は、 $d = f(p) - q$ 。ここで、 $PQ = QR$ であることより、 $QR = d$ 。

次に点 Q における接線で放物線をスケーリングをすると、放物線は $y = ax^2$ とみなせ、 S, T の y 座標は、 R の y 座標に等しくなる。すなわち、

$$d = ax^2$$

これから、

$$x = \sqrt{\frac{d}{a}}$$

これが、点 P から S, T までの x の増分になるわけだ。ということは、 S, T の x 座標はどう表されるだろうか。

<よしお>もともと $P(p, q)$ だったから、

$$x = p \pm \sqrt{\frac{d}{a}}$$

となりますね。凄いい、求まりました。接点の x 座標ができればあとは簡単ですものね。

<まなぶ>ようし、では先生の企みを看破した小生が $ex3$ を解いて進ぜよう

まず、 $y = f(x)$ とおくと、 $f(2) = 3$ 、よって、 y の増分は、 $3 - (-1) = 4$

これから x の増分は、 $x = \sqrt{4} = 2$ 。したがって接線の x 座標は

$$x = 2 \pm 2 = 0, 4$$

あとは、かず子にバトンタッチ。

<かず子>美味しいところばかりつまみ食いするんだから。しょうがないわね。

$y' = 2x - 2$ で、点 $(2, -1)$ を通る接線だから、

$x = 0$ のとき、 $y = -2(x-2) - 1 = -2x + 3$

$x = 4$ のとき、 $y = 6(x-2) - 1 = 6x - 13$

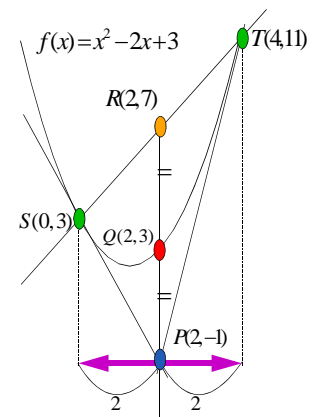
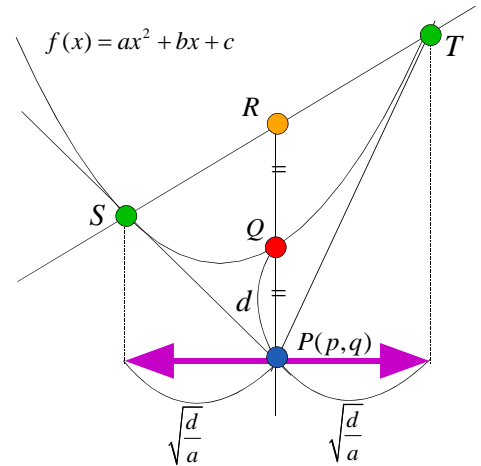
ほんと、あっという間にできてしまうんですね。

<まなぶ>放物線の絶対値の開きが同じってことは、2つの放物線は夫婦みたいなものなんだろうな。二人は赤い紐で結ばれていて、片方が動けば同じようにそれに従ってもう片方が動く。そしていつも頂点で歩調をとりあっているんだ。まあ、婦唱夫随ってことかな。

<かず子>やだあ、まなぶったら、いつもの先生のまとめ、奪っちゃってる。でも、まなぶ、普通、縁を結ぶのは、赤い紐でなく、赤い糸っていわない。

<先 生>2人を結んでいるのが赤い糸と紐では随分違うだろうな。ヒモだと、なんか男は女にくっついてグウタラ者のような印象を受けてしまう。もう一つ。まなぶは、「婦唱夫随」って聞いていたけど、本当のことわざは、「夫唱婦随」、夫が唱えたことに妻がしたがうということだ。でもまなぶかいうと、赤いヒモも、婦唱夫随も言葉としては正しいのかもわからないけどな。

<まなぶ>ん.....?



<あとがき>

今回は開き(2 次の頂の係数)の絶対値が等しい放物線のグラフの共通接線を取り上げましたが、開きが違う場合はどうなるだろうか。頂点を結ぶ線分との関係について調べてみよう。

上に凸と下に凸の2つの放物線の共通接線
2つの放物線の方程式を

$$f(x) = ax^2, g(x) = -b(x-p)^2 \quad (a > 0, b > 0, p > 0)$$

とおくと、この放物線の共通接線の一つはx軸(y=0)となる。

2つの放物線 f(x), g(x) の接点をそれぞれ S(s, f(s)), T(t, g(t)) とすると、2接線の交点 A は、x 軸上にある。また、S, T から x 軸に下ろした垂線の足をそれぞれ S_x, T_x とすると、曲線外から引いた2接線の性質より、

$$OA = AS_x, T_xA = AP.$$

$$\text{よって, } \frac{s}{2} = \frac{p+t}{2}$$

$$p = s - t$$

また、

$$f'(s) = g'(t)$$

であることより、

$$as + bt = bp$$

2式より s, t を求めると、

$$s = \frac{2b}{a+b}p, t = \frac{b-a}{a+b}p$$

以上より、A($\frac{b}{a+b}p, 0$)

次に、f(x), g(x) の x 軸でない共通接線を y = mx とし、これを2つの放物線の値に加え、y = f(x) + mx, y = g(x) + mx を作る(いわゆる和関数を考える)。

このとき、もともとの接線であった x 軸が y = mx になり、この変換により、2接線の交点 A はの x 座標は変わらず A' に移される。また、放物線の頂点は m > 0 であれば左方向にずれていく。

y = f(x) + mx の頂点 Q の x 座標を求めよう。

$$y = f(x) + mx$$

$$= ax^2 + mx$$

$$= a \left(x + \frac{m}{2a}x \right)^2 - \frac{m^2}{4a}$$

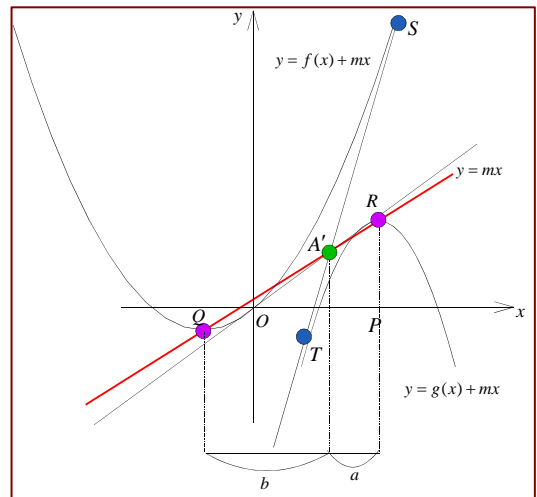
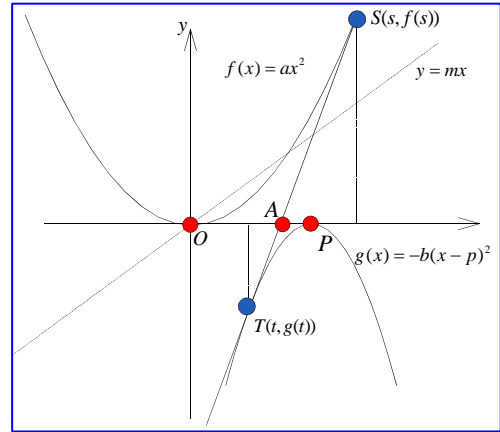
より、頂点 Q の x 座標は $x = -\frac{m}{2a}$

同様に y = g(x) + mx の頂点 R の x 座標は、 $x = p + \frac{m}{2b}$ であることは明らか。

さて、ここで、もともと2つの放物線 f(x), g(x) において、x 軸は、共通接線であると同時に、2頂点を通る直線だから、2接線の交点である点 A を y = mx により変換した点 A' は、頂点を結ぶ線分 QR 上の点になる。点 A' は QR をどのような比に分けるだろうか。

A' の x 座標は、 $x = \frac{b}{a+b}p$ であることより、

$$\begin{aligned} QA' : A'R &= Q_x A'_x : A'_x R_x \\ &= \left| \frac{b}{a+b}p + \frac{m}{2a} \right| : \left| p + \frac{m}{2b} - \frac{b}{a+b}p \right| \\ &= \left| \frac{2abp + m(a+b)}{2a(a+b)} \right| : \left| \frac{2abp + m(a+b)}{2b(a+b)} \right| \\ &= \frac{1}{a} : \frac{1}{b} \\ &= b : a \end{aligned}$$



$y = mx$ の代わりに $y = mx + n$ を考えてもこの一般性は失わない。
 以上より次の結論を得る。

2つの放物線の2次の項の係数を $a, -b$ ($a > 0, b > 0$) とするとき、
 共通接線の交点は、1つの接線に対する2つの放物線のそれぞれの接点を結ぶ線分を
 $b : a$ の比に内分する点である。

また、上述の証明過程において、

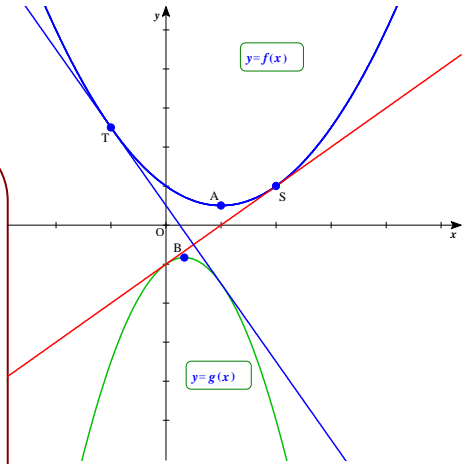
$$\begin{aligned} SA' : A'T &= S_x A'_x : A'_x T_x \\ &= \frac{s}{2} : \left| \frac{s}{2} - t \right| \\ &= \frac{b}{a+b} p : \frac{a}{a+b} p \\ &= b : a \end{aligned}$$

これから

2つの放物線 $f(x), g(x)$ の2次の項の係数を $a, -b$ ($a > 0, b > 0$) とするとき、
 共通接線の交点は、2つの放物線 $f(x), g(x)$ の頂点を結ぶ線分を $b : a$ の比に内分する点である。

ex1) 次の2つの放物線の共通接線の方程式を求めよ。
 $f(x) = x^2 - 2x + 2, g(x) = -3x^2 + 2x - 2$

解)
 $f(x) = (x-1)^2 + 1$ より、頂点 $A(1, 1)$
 $g(x) = -3\left(x - \frac{1}{3}\right)^2 - \frac{5}{3}$ より、頂点 $B\left(\frac{1}{3}, -\frac{5}{3}\right)$
 よって、線分 AB を $3:1$ の比に内分する点は、 $P\left(\frac{1}{2}, -1\right)$
 $f\left(\frac{1}{2}\right) - (-1) = \frac{9}{4}$ より、接点の x 座標は、 $x = \frac{1}{2} \pm \frac{3}{2} = 2, -1$
 $f'(x) = 2x - 2$ であるから、接線の方程式は、
 $y = 2x - 2, y = -4x + 1$



.2つの上に凸(下に凸)である放物線の共通接線
 2つの放物線の方程式を

$$f(x) = ax^2, g(x) = b(x-p)^2 \quad (a > 0, b > 0, a \neq b, p > 0)$$

とおくと、と同様に考えることができる。

$y = mx$ を加えて作られる2つの放物線

$$y = f(x) + mx, y = g(x) + mx$$

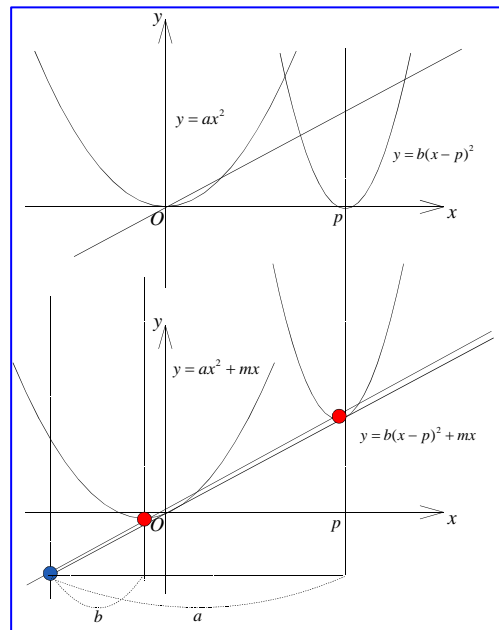
のそれぞれの頂点を Q, R とすると、

$$Q\left(-\frac{m}{2a}, -\frac{m^2}{4a}\right), R\left(p - \frac{m}{2b}, mp - \frac{m^2}{4b}\right)$$

であり、線分 QR と $y = mx$ との交点は、 QR を $b : a$ の比に外分する点であることが証明できる。

証明は割愛するが、外分する点 $A(x, y)$ が $y = mx$ 上にあることだけを確認してみよう。

$$x = \frac{-a\left(-\frac{m}{2a}\right) + b\left(p - \frac{m}{2b}\right)}{b - a} = \frac{bp}{b - a}$$



$$y = \frac{-a\left(-\frac{m^2}{4a}\right) + b\left(\frac{mp - \frac{m^2}{4b}}{b-a}\right)}{b-a} = \frac{mbp}{b-a} = mx$$

また、線分QRと $y = mx$ との交点は、2接点を結ぶ線分を $b:a$ の比に外分する点であることも示される。
以上より、

2つの放物線の2次の項の係数を a, b ($a > 0, b > 0, a \neq b$) とするとき、
2頂点を結ぶ線分および2接点を結ぶ線分を $b:a$ の比に外分する点は一致する。

が成立する。

ex2) 次の2つの放物線の共通接線の方程式を求めよ。

$$f(x) = 4x^2 + 8x - 16, \quad g(x) = x^2 - 4x + 20$$

解)

$$f(x) = 4(x+1)^2 - 20 \text{ より頂点 } Q(-1, -20)$$

$$g(x) = (x-2)^2 + 16 \text{ より頂点 } R(2, 16)$$

線分QRを1:4の比に外分する点 $A(x, y)$ は、

$$x = \frac{-4-2}{-1+4} = -2, \quad y = \frac{-80-16}{-1+4} = -32$$

よって、 $A(-2, -32)$

$$f(-2) - (-32) = 16 = 4 \cdot 2^2 \text{ であるから、}$$

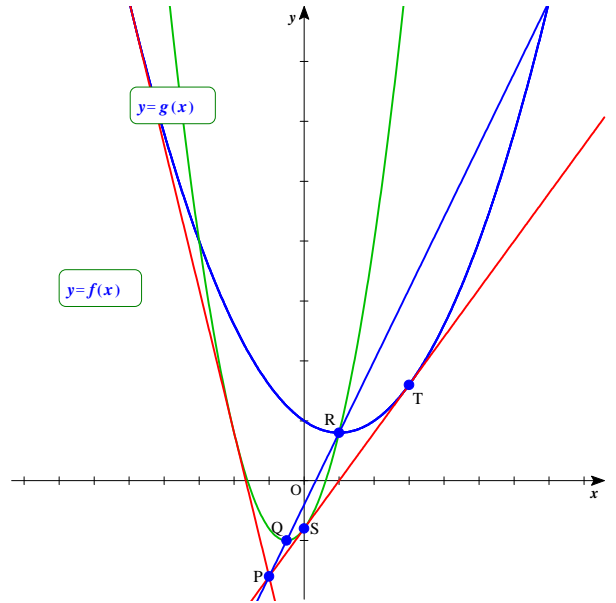
接点の x 座標は、

$$x = -2 \pm 2$$

より接点は、 $(0, -16), (-4, 16)$

以上より、共通接線は、 $y = 8x - 16$

$$y = -24x - 80$$



定点と放物線上の点を結ぶ線分の分点の軌跡
頂点を結ぶ直線と接点を結ぶ直線の交点がそれぞれの線分を一定の比に分けることから、他の2点でも同様に一定の比に分けることはできないか調べてみよう。

定点 $A(p, q)$ と放物線 $y = ax^2$ ($a > 0$) 上の点 $Q(x_1, y_1)$ を $a:a-b$ の比に分ける点の軌跡 $P(x, y)$ の方程式を求めよ。

$$x = \frac{(a-b)p + ax_1}{-b}, \quad y = \frac{(a-b)q + ay_1}{-b} \text{ より}$$

$$x_1 = -\frac{b}{a} \left(x + \frac{a-b}{b} p \right), \quad y_1 = -\frac{b}{a} \left(y + \frac{a-b}{b} q \right)$$

点 $Q(x_1, y_1)$ は $y = ax^2$ 上の点より、

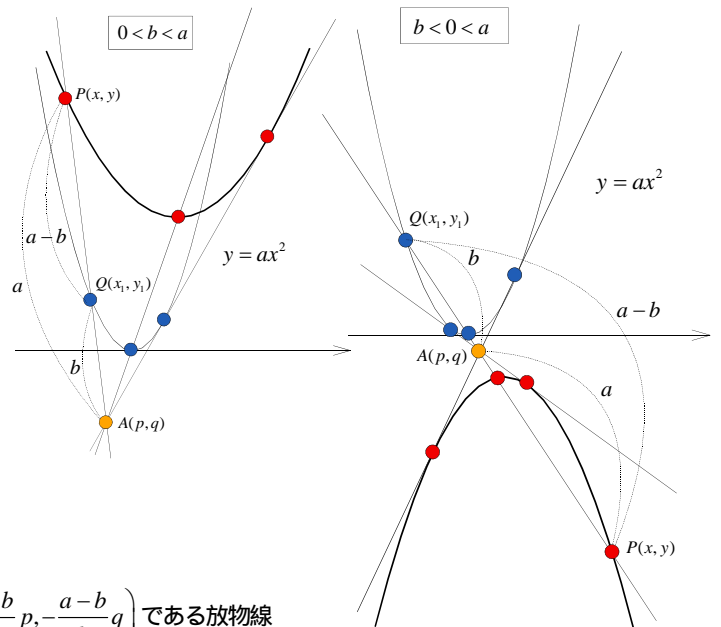
$$-\frac{b}{a} \left(y + \frac{a-b}{b} q \right) = \frac{b^2}{a} \left(x + \frac{a-b}{b} p \right)^2$$

$$y = -b \left(x + \frac{a-b}{b} p \right)^2 - \frac{a-b}{b} q$$

よって、その軌跡は、

グラフの開き(x^2 の項の係数)が $-b$ 、頂点 $\left(-\frac{a-b}{b} p, -\frac{a-b}{b} q\right)$ である放物線

である。したがって、分点の軌跡を逆にみることで、次の結果が得られる。



2つの放物線

$$y = ax^2 + mx + n, \quad y = bx^2 + m'x + n'$$

の2頂点、及び共通接線の2接点を結ぶ線分を $-b:a$ の比に分ける点は一致する。

上に(下に)凸である2つの放物線の交点

2つの放物線

$$y = ax^2 + mx + n, y = bx^2 + m'x + n' \quad (ab > 0)$$

の交点との2接点の間には次の関係が成立している。

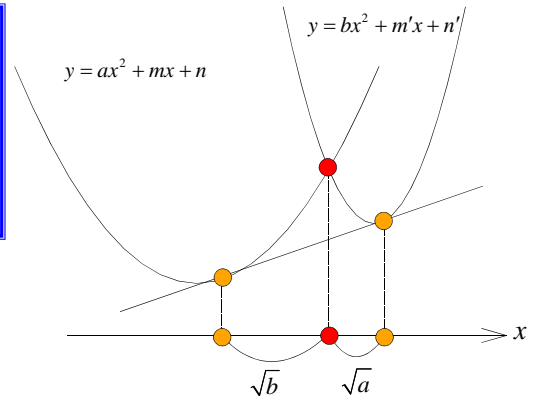
2つの放物線

$$y = ax^2 + mx + n, y = bx^2 + m'x + n' \quad (a > 0, b > 0)$$

の交点の x 座標は、それぞれの放物線の接点を結ぶ線分の x 座標を

$$\sqrt{b} : \sqrt{a} \text{ の比に内分・外分}$$

する座標である。



証明)

放物線から共通接線を引いて、接点が頂点となるようにする。

さらに、頂点が原点にくるように平行移動すると、放物線は

$$y = ax^2, y = bx^2$$

となる。このとき、 y 座標が一定値 $y = d$ となるときのそれぞれの x 座標の増分の比が求める x 座標の比となる。

$y = ax^2, y = bx^2$ の x 座標の増分を $x = s, x = t$ とする。

$$as^2 = bt^2 = d$$

より、

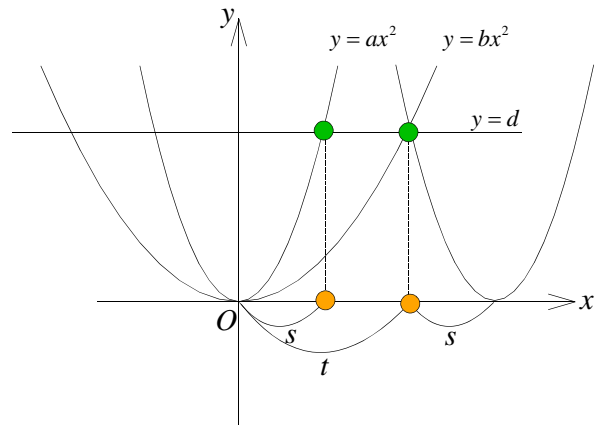
$$s = \frac{d}{\sqrt{a}}, t = \frac{d}{\sqrt{b}}$$

よって、

$$s : t = \frac{1}{\sqrt{a}} : \frac{1}{\sqrt{b}} = \sqrt{b} : \sqrt{a}$$

である。

これを利用して共通接線の問題を解いてみよう。



ex3) 次の2つの放物線の共通接線を求めよ。

$$f(x) = 4x^2 + 8x - 16, g(x) = x^2 - 4x + 20$$

解)

この2つの放物線の交点の x 座標は、

$$4x^2 + 8x - 16 = x^2 - 4x + 20$$

$$\text{より、} x^2 + 4x - 12 = 0$$

$$(x + 6)(x - 2) = 0$$

$$x = -6, 2$$

この x 座標が2接点を1 : 2の比に内分する点である。

接点間の交点の x 座標が $x = 2$ のとき、

2接点の x 座標は、 $x = 2 - s, 2 + 2s$ とおける。

$$f'(2 - s) = g'(2 + 2s) \text{ より、} 8(2 - s) + 8 = 2(2 + 2s) - 4$$

これを解いて、 $s = 2$

よって、2接点の x 座標は、 $x = 0, 6$ より、

共通接線の方程式は、 $y = 8x - 16$

同様に、交点の x 座標が $x = -6$ のとき、

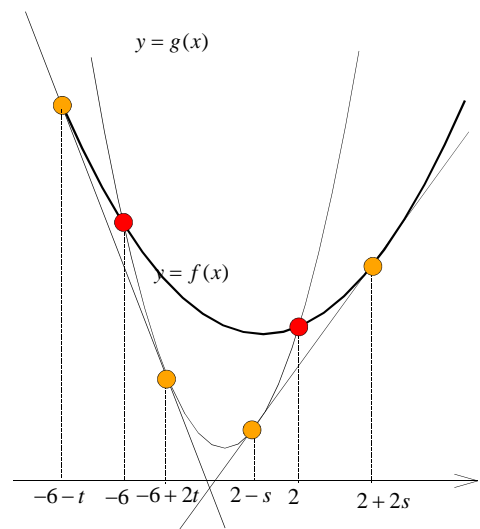
2接点の x 座標は、 $x = -6 - t, -6 + 2t$ とおける。

$$f'(-6 - t) = g'(-6 + 2t) \text{ より、} 8(-6 - t) + 8 = 2(-6 + 2t) - 4$$

これを解いて、 $t = -2$

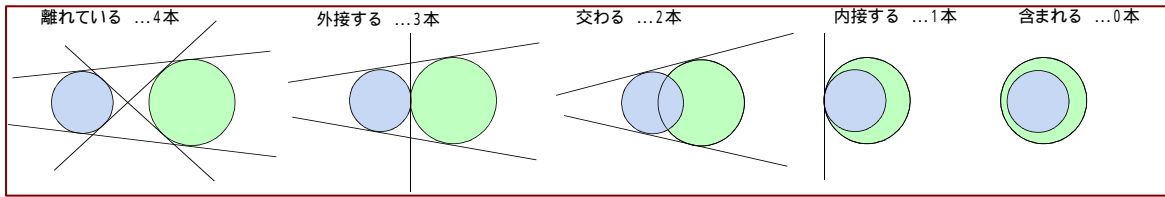
よって、2接点の x 座標は、 $x = -4, -10$

共通接線の方程式は、 $y = -24x - 80$

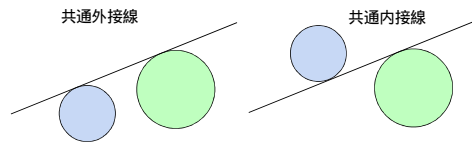


2円の共通接線

放物線を2次曲線のひとつと考えると、その仲間である円の共通接線との類似性を見出すことができる。
 大小2円の共通接線は、その位置関係から次のように引くことができる。



ひとつの接線により平面は2つの領域に分けられる。2円が同じ領域にありその接線に接している場合、その接線を共通外接線、異なる領域に2円があって接する場合を共通内接線という。



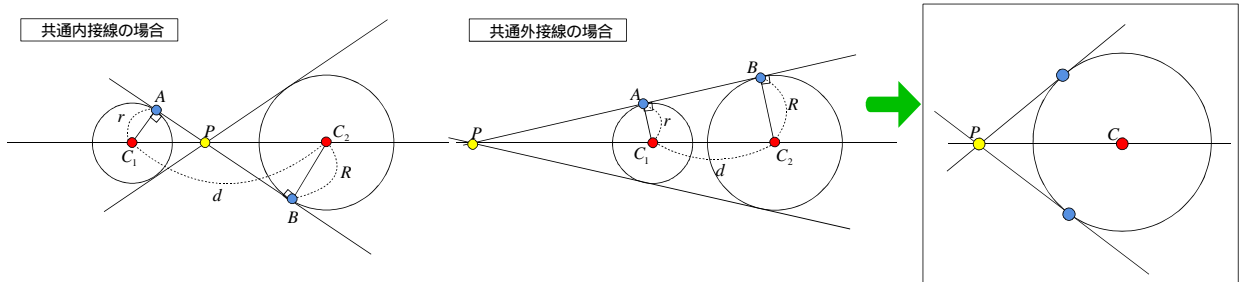
これらの共通接線は、2円の半径 r, R ($r < R$) と2円の中心 C_1, C_2 の座標から求めることができる。

下図のように2つの円の接点をそれぞれ A, B とし、2接線の交点を P とする。ここで、 $\triangle PAC_1 \sim \triangle PBC_2$ であるから、

$$PC_1 : PC_2 = r : R$$

よって、点 P は、線分 C_1C_2 を $r : R$ の比に分ける点(共通外接線の場合は外分点、共通内接線の場合は内分点)である。したがって、その共通接線は、この点 P から、2円のどちらか一方を選んで、その円に引いた接線を求める問題(円外から引いた接線問題)に帰着することになる。

2つの円の半径を r, R , 中心を C_1, C_2 とする。
 2円の共通内接線(外接線)は、線分 C_1C_2 を $r : R$ の比に内分(外分)する点から、2円のどちらかに引いた接線である。

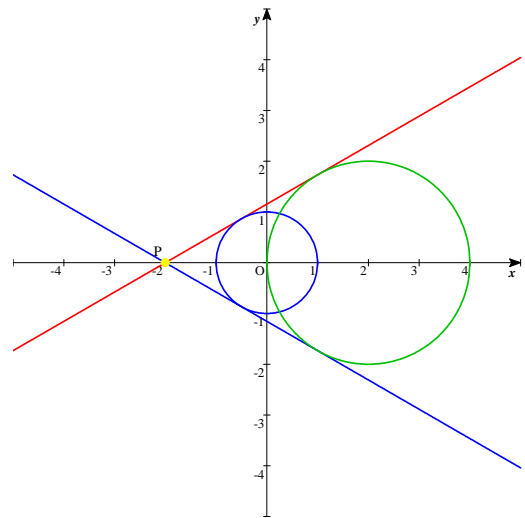


ex4) 次の2つの円の共通接線を求めよ。
 $x^2 + y^2 = 1, (x - 2)^2 + y^2 = 4$

解
 2円は交わるから求める接線は2本の共通外接線である。
 2円の半径はそれぞれ1, 2より、中心 $C_1(0, 0), C_2(2, 0)$ を1 : 2の比に外分する点 $P(-2, 0)$ から円 $x^2 + y^2 = 1$ に引いた接線を求めればよい。
 接線は y 軸に平行ではないから傾きを m とすると、 $y = m(x + 2)$ 。
 この直線と円 $x^2 + y^2 = 1$ の中心 $C_1(0, 0)$ との距離が円の半径1に等しければよいから、

$$\frac{|2m|}{\sqrt{m^2 + 1}} = 1$$

 これを解いて $m = \pm \frac{1}{\sqrt{3}}$ 。
 以上より共通接線は、 $y = \pm \frac{1}{\sqrt{3}}(x + 2)$



二次曲線の共通接線

放物線，円どちらもその共通接線は，2つの共通接線の交点から2つの曲線のうちの1つを選び，その曲線に引いた接線であることが分かる(曲線外の点から曲線に引いた接線)。

視点を変えると，曲線外の1点Pから曲線に接線を引き，その接線に沿って，曲線を拡大，縮小すると，もう一つの曲線が得られると解釈すればよい。すなわち，点Pは2つの曲線の相似の中心ということである。

その相似比は，2曲線の対応する2点と相似の中心との距離の比である。

円の場合は，中心をその対応点としてその比を求めればよい。放物線の場合は，頂点との比を考えるが，2次曲線とみればもちろん焦点の比を考えてもよいことになる。

したがって，その相似比と，放物線のグラフの開きや円の半径との関係が分かれば，開きや半径から相似の中心が求められることになる。このことを考えてみよう。

$$f(x, y) = ax^2 + by^2 + cx + dy + e \quad (a^2 + b^2 \neq 0)$$

とする。

原点を相似の中心とし，2次曲線 $f(x, y) = 0$ を $m:n$ の比に拡張した軌跡の方程式を求める。

原点 O と，2次曲線 $f(x, y) = 0$ 上の点 $A(x_1, y_1)$ を結ぶ線分を $m:n$ の比に分ける点を $B(X, Y)$ とする。

点 A は，線分 OB を $m:n-m$ の比に分ける点であるから，

$$x_1 = \frac{mX}{m + (n-m)} = \frac{m}{n}X$$

同様に， $y_1 = \frac{m}{n}Y$. これから，

$$\begin{aligned} f(x_1, y_1) &= f\left(\frac{m}{n}X, \frac{m}{n}Y\right) \\ &= \frac{m^2}{n^2} \left(aX^2 + bY^2 + \frac{ncX}{m} + \frac{ndY}{m} + \frac{n^2}{m^2}e \right) \end{aligned}$$

よって，点 B の軌跡の方程式は，

$$g(x, y) = ax^2 + by^2 + \frac{nc}{m}x + \frac{nd}{m}y + \frac{n^2}{m^2}e = 0$$

である。

2つの二次曲線 $f(x, y) = 0, g(x, y) = 0$ の原点を相似の中心とする相似比が，図形上のどんな性質に反映されるか調べる。

例えば， $a = b \neq 0$ のとき，2次曲線は円を表す。相似比は，その拡張から2円の半径比に等しいことは明らかであろう。

同様に，楕円 ($ab > 0, ab \neq 0$) のときは，長軸の長さの比，双曲線 ($ab < 0$) のときは，主軸の長さの比が相似比になることを利用すればよい。

$b = 0, d \neq 0$ のとき，2次曲線は軸が y 軸に平行である放物線を表す。

放物線のグラフの開きの比を求めると，

$$-\frac{a}{d} : -\frac{am}{dn} = \frac{1}{m} : \frac{1}{n}$$

である。したがって，放物線のグラフの開きの逆比が相似比に等しいことになる。

このことは，放物線 $y = ax^2$ を原点を相似の中心として m 倍した点の軌跡 (X, Y) を考えると分かり易い。

$$X = mx, Y = my$$

より， $\frac{Y}{m} = a \left(\frac{X}{m} \right)^2$ から， $Y = \frac{1}{m} aX^2$.

すなわち， $m > 1$ のとき，グラフ全体が拡大すると，その開きは $\frac{1}{m}$ 倍されることにより小さくなるのである。

しかし，これを二次曲線とみて，標準形 $(x - \beta)^2 = 4p(y - \alpha)$ で考え， $4p$ の比を求めると，

$$-\frac{d}{a} : -\frac{dn}{am} = m : n$$

である。これは， $a = 0, c \neq 0$ の場合の標準形 $(y - \beta)^2 = 4p(x - \alpha)$ でも同じ結論が得られる。

放物線も二次曲線とみて，共通接線を求めたほうが見通しがよいということになる。

