

配点

(1)(2) 各 10 点 (3) タイプ 1, タイプ 2 各 10 点

講評

問題文中にある $\cos 15^\circ = \frac{\sqrt{6} + \sqrt{2}}{4}$ や $\tan 22.5^\circ = \sqrt{2} - 1$ などは使わなくても解けます。数Ⅱ「三角関数」で「半角の公式」を学ぶと自力でも出せる値なのですが、1年生と2年生で有利不利が生じないように付け加えました。

問題1は平面図形の問題ですが、着眼点にも書いたように、1つの図形の中に決められた大きさの図形を重ならないようにいくつ入れられるかという「充填問題（この場合、複数の図形が1点のみを共有する場合＝接する場合は重なっていないと考えます）」です。この問題は、円と直線の位置関係や、三角形、四角形など図形の性質と、三平方の定理、基本的な三角形の角と辺の関係などを知っていれば中学生でも手のつけられる問題と考えて出題しました。とはいえ、図形に不慣れな人にとってはどのように考えたらよいか困ってしまうかもしれません。そのため、例として最初に9個の半径1の円を正方形に入れる問題を説明しました。答えは縦に3個、横に3個の円を並べると9個の円が1辺の長さ6の正方形の中にちょうど入ります（図1）。これより小さい正方形に9個の円を入れることはできません（ただし、これを証明するとなれば悩んでしまいそうですが）。

それでは8個の円を入れるにはどうするかということで、最初の9つの円のうち真ん中の1つを除いて、8つの円を含む正方形（図2）を考えるとしました。もちろん最初の1辺の長さ6の正方形には9個の円が入れるので、8個であればそれより小さい正方形にも入れられるのではないかということです。四隅の円は外側の正方形の2辺に接したまま、内側の4円を真ん中に寄せ、互いに2つずつ接するようにし、それに合わせて外側の正方形の上下と左右を縮めると図3の形になります。出題者は、ここで正方形の内部にある円の中心が左右対称、上下対称、さらに対角線について対称という条件が浮かべば見通しが立つと考えました。今回の設問はいずれも最低1つの対角線に関して対称な場合です。一般には対称でない場合も考えなければならないのですが、今回の出題では扱っていません。

当初、この問題は、どのような場合に決められた個数の円を内部に含む最小の辺の長さを持つ正方形が作られるかを考えて、フリーハンドで描いてもらう問題として発想しました。ところが、この出題だと、皆さんがどのような解答をするのか予想が難しく、また、採点も大変なので、いくつかの例をあげてそれぞれの場合の正方形の大きさを求めてもらう出題にしました。それぞれの正方形について、図と計算・説明で6点、辺の長さを正しく求めて4点としています。今回は、正方形の中にすでに円が入っているので、作図とはいっても点と点を結ぶ、点から辺に垂線を引くなどですが、特に指示はしていないのでフリーハンドでOKです。(3)の前半は点から引いた垂線と中心と中心を結ぶ線分をとり、角度、辺の長さなどを図の中にかきこむだけで十分な説明になっていると考えられた答案もありました。

一方、答えしか書かずに減点されている人、答えが正しくても説明不十分で減点されている人もいます。また、途中までで完成していなくても、そのやり方で正解に到達できる場合や計算ミスなどで答えが違っていても部分点を上げている場合もあります。今回、問題1での40点満点は2人だけだったのですが、説明不十分として減点されている人の中には、図形を正しく把握しているのに説明が一言足りなくて満点を逃した人も相当数います。記述式の問題の場合、採点者や出題する団体の考え方によって採点基準も変わることがありますが、皆さんはできるだけ丁寧に説明や計算などを書いてほしいと思います。

それでは(1)です。10点満点中、平均点は6.8点、満点は25名でした。正しく辺の長さを導いていたのは全受験者の64.5%でした。解答例では、外側の正方形について対角線OBについての対称性を用いて図3①に補助線を描きこみ、四隅のOD, AG, BK, CHを対角線とする四角形は、円と接線の関係より1辺の長さが1の正方形となること、円の中心どうしを結んでできる三角形のうち、図の△DEF, △GIE, △KIJ, △HJFなどは3辺の長さが2で等しいので正三角形であることは説明なしで使ってもよしとしました。また、四角形DGKHは4辺の長さが等しいこと(元の正方形から長さ2を引いたもの)、さらに、4つの内角が等しいことから正方形であることは説明なしでよしとしました。しかし、四角形FEIJは4辺の長さが等しいことだけでは正方形とはいえません(4辺の長さが等しいのはひし形です)。4辺の長さが等しいことに加え、4つの内角がすべて直角であることをいわなければ説明不十分です。解答例では2つの円が接するとき中心を結ぶ線分は接線と直交するため、外側の正方形OABCの対角線OBと辺EF, 辺IJは直交するので、隣り合う2角が90°で向かい合う2辺の長さが等しい四角形は長方形となり、2つの長方形を合わせた四角形EIJFは正方形となるという説明をしていますが、採点してみると4辺の長さが等しいので正方形である、とした答案が非常に多く、減点-1としました。三角形の場合は、3辺の長さが等しいことと3つの内角の大きさが等しいことは必要十分条件であり、どちらの条件でも正三角形になりますが、四角形の場合は4辺の長さが等しいことと同値(必要十分条件)なのはひし形であることであり、4つの内角の大きさが等しいことと同値なのは長方形であることです。図を見ると直角であることは明らかであると言いたくなるかもしれませんが、直角に見えることと直角であることは違います。対角線OBについて点Iを中心とする円と点Jを中心とする円、点Eを中心とする円と点Fを中心とする円は対称なので、「対称性より∠IJKと∠JIEは90°」などと説明した答案はOKとしました。ただし、より厳密には、ただ対称だからでは不十分で、正方形の対角線について対称としてほしいところです。別解としては、対角線を使わずに中の正方形DGKHの辺の長さを求め、それに+2とした答案も多かったです。この場合も、二等辺三角形△DEGの底辺DGを求めるのに、4辺の長さが等しいので四角形FEIJが正方形であるとした人は減点しています。∠FEI=90°であれば

$\angle DEG = 360^\circ - 60^\circ \times 2 - 90^\circ = 150^\circ$ で余弦定理からDGを導けますし、△DEGが二等辺三角形より、点Eから辺DGに垂線ELを引くと $\cos 15^\circ = \frac{\sqrt{6} + \sqrt{2}}{4}$ を用いてDGを求められます。

(2)は10点満点中、平均点は5.6点、満点は59名でした。正しく辺の長さを導いていたのは全受験者の59.1%でした。外側の正方形の頂点をO, A, B, Cとし、辺OAとOCに接する円の中心をD, この円と辺ABに接する円の中心をE, 点Dが中心の円と辺BCに接する円の中心をFとします。この場合、3つの円は左右対称でも上下対称でもありませんが、対角線OBに関して対称になっています。解答例では、外側の正方形OABCの対角線OBの長さを求め、直角二等辺三角形の辺の比 $1:1:\sqrt{2}$ を用いて正方形の2辺に接する円の中心は対角線OB上にあり、正方形の1辺に接する2つの円は中心が正方形の対角線に関して対称の位置にあることを用いて2円の接線は対角線OBと一致することより、 $\triangle DEF$ は正方形で、FEの中点をGとすると $DG=\sqrt{3}$ (3つの内角が $30^\circ, 60^\circ, 90^\circ$ の直角三角形である)。四角形EHBGは

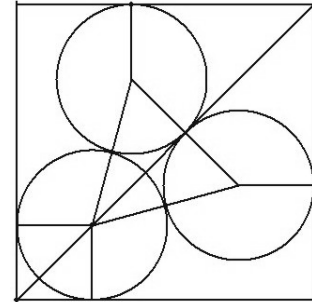


図4①

$EG=EH=1$ (円の半径), $BH=BG$ (円の外部の点から円に引いた接線の長さは等しい) より、四角形BGEHは矩形(凧の形)であることがわかります。さらに、対角線と正方形の一辺のなす角 45° で $\angle BGE=\angle BHE=90^\circ$ なので $\angle GEH=135^\circ$ より余弦定理でGHを求め、さらにBHを求める方法(図4①)を用いました。しかし、実際に採点すると、この方法を使った受験生は少なく、点Dを通り辺OAに平行な直線GI, 同じく点Dを通り辺OCに平行な直線JLを引き、点Fから直線JLに垂線FKを引き、 $\angle LDI=90^\circ$, $\angle FDE=60^\circ$ から $\angle EDH=15^\circ$ として、 $\triangle EDH$ で

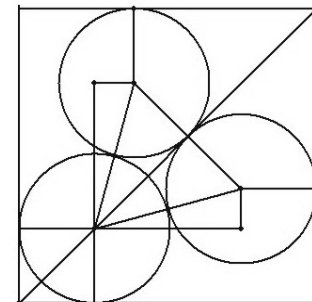


図4②

$\cos 15^\circ = \frac{\sqrt{6} + \sqrt{2}}{4}$ を用いてDHを求め、 $DH+2$ でOAの長さを求めた人の方が多かったです。ただし、この場合も $\angle LDH=90^\circ$, $\angle FDE=60^\circ$ より説明抜きで $\angle EDH=15^\circ$ とした人が多く、(1)と同じように減点せざるを得ない答案が多かったです。対称性を用いるか、合同条件で $\angle FDK=\angle EDH$ を示すか、正方形の辺と対角線のなす角は 45° であるかを用いて説明(図4②)してあればOKです。図4②の変形で対角線を使った解法が図4③です。外側の正方形の4点をO, A, B, C, 内部の円の中心を図4①, ②と同様に点D, E, Fとします。点Dを通り外側の正方形の2辺OA, OCに平行な直線を引き、同様に点Fを通りOA, CBに平行な直線, 点Eを通りAB, OCに平行な直線を引くと、正方形の内部に、各辺が外側の正方形の各辺と平行で、辺の長さが元の正方形の一辺の長さより2短い正方形DGLHができます。ここで、外の正方形の対角線と中の正方形の対角線が重なっていて、内部の点Eが中心の円と点Fが中心の円の接点をNとすれば、外側の正方形の対角線OBは

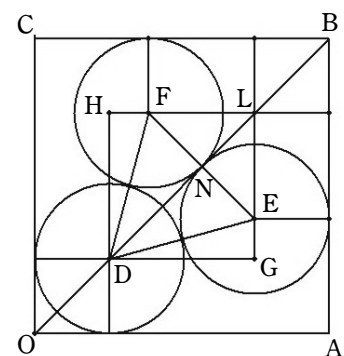


図4③

$OD=\sqrt{2}$, $DN=\sqrt{3}$, $\triangle FLE$ は直角二等辺三角形で $FN=NE=1$ より $NL=1$, $\triangle BLP$ は直角二等辺三角形であることより $LB=\sqrt{2}$ より

対角線 $OB = \sqrt{2} + \sqrt{3} + 1 + \sqrt{2}$ より $OA = \frac{2\sqrt{2} + \sqrt{3} + 1}{\sqrt{2}} = 2 + \frac{\sqrt{6} + \sqrt{2}}{2}$ となります。

(3)はタイプ1, タイプ2ともに10点の配点です。タイプ1の平均点は6.7点, 満点は106名。答えが正しかったのは69.1%でした。また, タイプ2の平均点は1.7点, 満点は10名。答えが正しかったのは7.6%でした。問題文中の図を見てタイプ1とタイプ2ではタイプ1の方が小さいことは予測できると思います。

タイプ1は(1)(2)を使わずに求められますし, 中の正方形と補助線として対角線を用いれば計算量も少なく, この4つの図形の中でも一番答えは求めやすいような気がします。以前, 数学コンテストの出題について, 「(1)(2)などと枝間が設定されているときは前の設問が次の枝間へのヒントになっていることがありますよ」と『採点を終えて』の中で書いたことがあります。一般的には, 枝間が進むにつれて問題の難易度が高くなることが多いのですが, 今回は円の個数が変わっていますし, タイプ1の場合, 5つの円の中心がすべて正方形の対角線上にあるので条件が少なく, (3)のタイプ1がこの4つの図形の中で一番計算が楽なケースでした。受験生の中には, (1)(2)で行き詰まって(3)に手をつけずに, 問題2以降に進んだ人もいたのではないのでしょうか。もったいないなと感じました。

タイプ2 (図6)は, 正方形の左下から右上に対角線を引くと, 左下の円は中心が対角線上にあり, 残りの4つの円はこの対角線に関して互いに対称な位置にあります。解答例では左下の正方形, 次に直角二等辺三角形, さらに等脚台形, そして凧形の四角形ができるので, これらを用いて正方形の対角線の長さを求めます。別解として, 凧形の四角形を使わずに 45° の半分である 22.5° の直角三角形で $\tan 22.5^\circ = \sqrt{2} - 1$ (解答例(2)の別解の形)を使った人もいました。出題者が予想もしなかった方法で(3)を解決したのが, 受験番号190の坂本くん(途中まで同じ方法で考えていたのが2名)でした。(2)の別解と似た方法ですが, 外側の正方形の1辺の長さを a として正方形の内部の5つの円の中心を通る正方形を作り, この正方形を $DIJK$ として $\triangle EIF$ についての三平方の定理を用いて a の値を求めるという方法です。この方式だと直角二等辺三角形の辺の比と三平方の定理だけで解けるので(計算量が多いですが)すっきりとしています。

今回の問題1は8個, 3個, 5個の円を含む正方形の問題でしたが, 実は個数を変えると対称でないような正方形が条件を満たす場合もあります(前出の「円をめぐる冒険」参照)。図形問題はホントに奥が深いです。

(立命館慶祥中学校・高等学校 佐々木 光憲)